

- 1) Intervalul între sunetele care compun "o serie de sunete foarte scurte" este de :
 - a) circa $\frac{1}{2}$ s
 - b) circa 1 s
 - c) **circa $\frac{1}{4}$ s**

- 2) Pentru a evita un pericol iminent, conducătorii trebuie să ia toate măsurile cerute de împrejurări, chiar dacă se îndepărtează de la dispozițiile R.N.D.
 - a) **Da**
 - b) Nu
 - c) Numai pentru a salva nava

- 3) În caz de accident care pune în pericol persoanele care se găsesc la bord, conducătorul trebuie :
 - a) Să anunțe prin orice mijloace Căpitania portului cea mai apropiată pentru salvarea persoanelor
 - b) **Să se folosească de toate mijloacele care sunt la dispoziția lui pentru salvarea acestor persoane**
 - c) Să ceară ajutor navelor care navigă în apropiere

- 4) Ce se înțelege prin termenul "zi" întrebuintat în R.N.D ?
 - a) Perioada cuprinsă între apusul și răsăritul soarelui
 - b) Nu este prevăzut în R.N.D.
 - c) **Perioada cuprinsă între răsăritul și apusul soarelui**

- 5) Toate navele fluviale trebuie să aibă mărci care indică linia maximă de încărcare ?
 - a) **Da exclusiv micile ambarcațiuni**
 - b) Da inclusiv micile ambarcațiuni
 - c) Nu este prevăzut expres în R.N.D

- 6) Durata unui sunet lung este de :
 - a) Circa 5 secunde
 - b) Circa 6 secunde
 - c) **Circa 4 secunde**

- 7) Conducătorii navelor remorcate trebuie să se conformeze ordinelor conducătorului convoiului ?
 - a) **Da**
 - b) Nu
 - c) Numai în cazuri speciale

- 8) "Bordul liber" este :
 - a) Distanța dintre linia de încărcare maximă și pescajul navei
 - b) Distanța dintre linia de încărcare maximă și lina de încărcare minimă

- c) **Distanța măsurată între planul de încărcare maximă și suprafața punții superioare în punctul ei cel mai de jos, sau în lipsa punții, punctul cel mai jos al părții superioare a bordului fix**
- 9) Ce se înțelege prin "navă" în sensul R.N.D. ?
- a) Mijlocul de navigație utilizat pentru realizarea activității de transport și a altor servicii pe apă
 - b) **Navele de navigație interioară, inclusiv ambarcațiunile mici și bacurile, precum și aparatele plutitoare și navele maritime**
 - c) Navele maritime, fluviale, aparatele plutitoare, plute, nave militare etc
- 10) Ce se înțelege prin termenul de "în staționare" folosit în R.N.D. ?
- a) navă, atunci când este legată la mal
 - b) navă sau un material plutitor asamblat când este legată la mal
 - c) **navă, un material plutitor asamblat sau o instalație plutitoare atunci când este, în mod direct sau indirect ancorată sau legată la mal**
- 11) Care sunt îndatoririle altor persoane care se găsesc la bordul navei :
- a) **Să se supună dispozițiilor conducătorului navei, în interesul siguranței navigației și ordinii la bord**
 - b) Să se supună dispozițiilor conducătorului navei, numai la ambarcarea și debarcarea lor
 - c) Nu este prevăzut expres în R.N.D
- 12) Orice conducător de navă, dacă constată avarierea unei instalații de semnalizare (stingerea unei lumini, deplasarea unei geamanduri, distrugerea unui semnal, etc.) este obligat :
- a) Să ia măsuri imediate de remediere a semnalului avariat
 - b) **Să anunțe fără întârziere căpitănia de port cea mai apropiată asupra avarierii instalației de semnalizare respectivă**
 - c) Să anunțe prin orice mijloc întreprinderea care are în administrație întreținerea și semnalizarea căii navigabile
- 13) Ce se înțelege prin "marș" în sensul R.N.D. :
- a) **Când o navă, un material plutitor asamblat sau o instalație plutitoare, nu este direct, nici în ancoră, nici legată la mal și nici eșuată**
 - b) navă atunci când navigă chiar și în derivă
 - c) navă când nu este ancorată sau legată
- 14) Navele de pasageri pot transporta un număr de pasageri corespunzător :
- a) Planurilor de construcție ale navei
 - b) Instrucțiunilor șantierului constructor
 - c) **Autorizației organelor competente**

- 15) Ce se înțelege prin termenul de “noapte” în sensul R.N.D. ?
- Perioada cuprinsă între răsăritul și apusul soarelui
 - Perioada cuprinsă între apusul și răsăritul soarelui**
 - Nu este prevăzut în R.N.D
- 16) Durata unui sunet scurt este de :
- Circa o jumătate de secundă
 - Circa 1 secundă**
 - Circa $\frac{1}{4}$ secundă
- 17) Scări de pescaj poartă navele care au pescajul de cel puțin :
- 1 m**
 - 0,50 m
 - 1,20 m
- 18) Ce se înțelege prin “ambarcațiune mică”, în sensul Regulamentului de Navigație pe Dunăre ?
- Orice navă cu lungimea corpului mai mică de 20 m, cu excepția ambarcațiunilor mici care remorchează, împing sau duc cuplat nave, altele decât ambarcațiuni mici, precum și a bacurilor și a navelor autorizate să transporte mai mult de 12 pasageri**
 - Nave a căror lungime și lățime ale corpului sunt mai mici de 15 m și respectiv, 3,50m sau al căror deplasament mediu este mai mic de 15 t, cu excepția bacurilor, navelor care remorchează, împing sau duc cuplat nave, în afara de ambarcațiuni mici
 - Nave a căror lungime și lățime ale corpului sunt mai mici de 15 m și respectiv, 3,50 m sau al căror deplasament maxim este mai mic de 10 t, cu excepția bacurilor, navelor care remorchează, împing sau duc cuplate nave, în afara de ambarcațiuni mici
- 19) Ce se înțelege prin “serie de sunete foarte scurte “ ?
- serie de cel puțin 6 sunete cu o durată de circa $\frac{1}{4}$ de secundă fiecare**
 - serie de cel puțin 5 sunete cu o durată de $\frac{1}{2}$ de secundă fiecare
 - serie de cel puțin 7 sunete cu o durată de $\frac{1}{3}$ de secundă fiecare
- 20) În scopul evitării de a pune în pericol viața persoanelor sau de a provoca pagube altor nave, conducătorii pot lua toate măsurile de precauție, chiar dacă nu sunt prevăzute dispoziții speciale în Regulamentul de Navigație pe Dunăre ?
- Da**
 - Nu
 - Numai pentru a salva echipajul

- 21) Ce obligații aveți dacă sunteți conducătorul unei nave și vă găsiți în apropierea altei nave avariate, ale cărei persoane sunt în pericol sau nava poate deveni un obstacol pentru navigație ?
- În măsura în care nu puneți în pericol siguranța propriei nave, dați asistență imediat**
 - Fiind vorba de persoane în pericol, dați asistență imediat
 - Anunțați cea mai apropiată căpitănie de port
- 22) Zona 1 a căii navigabile corespunde unei înălțimi aparente a valurilor de :
- 0,6 m
 - 1,2 m
 - 2 m**
- 23) Zona a 3-a a căii navigabile corespunde unei înălțimi aparente a valurilor de:
- 2 m
 - 1,2 m
 - 0,6 m**
- 24) Zona a 2-a a căii navigabile corespunde unei înălțimi aparente a valurilor de:
- 1,2 m**
 - 0,6 m
 - 2 m
- 25) Ce se înțelege prin termenul “navă care pescuiește” ?
- Orice navă care pescuiește cu ajutorul plasei, a cârmacei, cu traul sau alte mijloace de pescuit care-i reduc capacitatea de manevră**
 - Nava construită și dotată pentru a pescui
 - navă care pescuiește cu cârlige sau alte unelte de pescuit, care nu-și reduce capacitatea de manevră
- 26) Ce se înțelege prin termenul “serie de bătăi de clopot” ?
- Înseamnă două lovituri de clopot**
 - Înseamnă trei lovituri de clopot
 - Înseamnă patru lovituri de clopot
- 27) Cum pot fi folosite luminile și proiectoarele ?
- Este interzis a se folosi lumini sau proiectoare astfel ca ele să poată fi confundate cu luminile sau semnalele menționate în R.N.D. sau care pot dăuna asupra vizibilității acestor lumini sau semnale sau ca ele să producă o orbire care constituie un pericol pentru navigație ori pentru circulația terestră**
 - Este interzisă cu desăvârșire folosirea lor în R.N.D
 - Nu se precizează folosirea lor în R.N.D

- 28) Care este intensitatea și arcul de orizont la care poate fi văzută o lumină albă din pupa unei nave ?
- Clară, $112^{\circ} 30'$
 - Obișnuită, 137°
 - Obișnuită, 135°**
- 29) Ce lumini poartă navele ce navigă cu vele ?
- Două lumini, obișnuite sau clare suprapuse vizibile din toate părțile din care lumina superioară trebuie să fie roșie, iar lumina inferioară verde; aceste lumini trebuie să fie dispuse într-un loc corespunzător, în partea superioară sau în vârful catargului, la o distanță de cel puțin 1 m una de cealaltă. Luminile din borduri verde/roșu obișnuite și lumina albă obișnuită de pupa**
 - lumină albă obișnuită, iar la apropierea de o altă navă arată o a doua lumină albă obișnuită la prova
 - Două lumini albe obișnuite la prova
- 30) Ce lumini trebuie să poarte, noaptea, ambarcațiunile mici autopropulsate, a căror lungime a corpului nu depășește 20 m, care remorchează sau duc în cuplu ambarcațiuni mici ?
- Nu este prevăzut în R.N.D.
 - Luminile unei nave autopropulsate, cu convoi remorcat sau în cuplu
 - Luminile unei ambarcațiuni mici autopropulsate ce navigă izolat și a cărei lungime nu depășește 20 m**
- 31) Ce lumini pot să poarte noaptea, ambarcațiunile mici autopropulsate, ce nu depășesc 7 m, în marș ?
- lumină albă obișnuită, dispusă într-un loc corespunzător și la o înălțime de la care să fie vizibilă din toate părțile**
 - Două lumini albe obișnuite la catarg
 - Luminile unei nave autopropulsate în marș
- 32) Ambarcațiunea mică legată la mal, noaptea, cu excepția bărcilor de serviciu ale navelor trebuie să poarte :
- lumină albă obișnuită dispusă într-un loc corespunzător și la o astfel de înălțime încât să fie vizibilă din toate părțile**
 - Nu este obligatorie semnalizarea
 - lumină albă obișnuită dispusă la cel puțin 3 m deasupra liniei de încărcare maximă
- 33) Plasele sau alte unelte de pescuit ale navelor care pescuiesc, ziua întinse în apropierea șenalului și care pot prezenta o piedică pentru navigație, vor fi semnalizate cu :
- Geamanduri, în număr suficient fiecare, purtând câte un pavilion alb pentru a indica poziția lor

b) Flotoare sau pavilioane galbene, în număr suficient pentru a indica poziția lor

c) Orice obiecte plutitoare, în număr suficient pentru a indica poziția lor

34) Luminile din imaginea de mai jos sunt purtate noaptea de :



a) Un convoi împins în marș văzut din prova

b) Un convoi împins în marș cu o lungime mai mică de 110 m și o lățime mai mică de 12 m

c) Un convoi împins în staționare

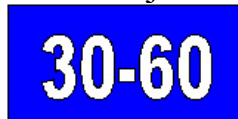
35) Ce lumini trebuie să aibă o ambarcațiune mică cu rame, noaptea în marș ?

a) Trebuie să arate o lumină albă obișnuită vizibilă din toate părțile la apropierea altor nave

b) lumină albă obișnuită, vizibilă pe întreg orizontul (360^0)

c) lumină albă obișnuită, vizibilă pe un arc de orizont de 225^0

36) Ce semnificație are semnalul de mai jos ?



a) Permite de a staționa pe o lățime a suprafeței de apă cuprinsă între cele 2 distanțe măsurate de la semnal și indicate în metri pe acesta

b) Interzicerea de a staționa pe o lățime cuprinsă între 30-60 m

c) Permite de a staționa în afara semnalului indicat

37) Luminile de mai jos sunt purtate noaptea de :

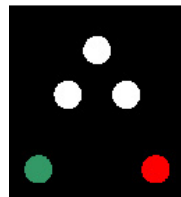


a) Instalații plutitoare, altele decât nave în staționare

b) Un convoi împins văzut din pupa, în marș

c) macara plutitoare în lucru

38) Imaginea de mai jos reprezintă :



a) Luminile unei nave autopropulsate din capul unui convoi în marș noaptea văzute din prova

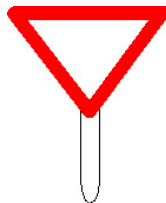
- b) Luminile unei nave autopropulsate izolate în marș noaptea văzute din prova
- c) **Luminile unui convoi împins în marș noaptea văzute din prova**

39) Luminile din imaginea de mai jos sunt purtate noaptea de:

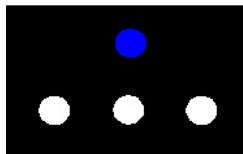


- a) Nava autopropulsată din capul unui convoi remorcat văzut din prova
 - b) Un bac de trecere autopropulsat în marș
 - c) **navă autopropulsată izolată în marș văzută din prova**
- 40) Ce lumini trebuie să poarte navele cu vele în marș și unde ?
- a) Luminile unei nave izolate autopropulsate în marș sau dacă sunt ambarcațiuni mici, luminile ambarcațiunilor mici
 - b) singură lumină albă obișnuită iar la apropierea de o navă să arate o a doua lumină albă la prova
 - c) **Două lumini obișnuite sau clare suprapuse vizibile din toate părțile din care lumina superioară trebuie să fie roșie, iar lumina inferioară verde. Aceste lumini trebuie să fie dispuse, într-un loc corespunzător în partea superioară sau în vârful catargului la distanță de cel puțin 1 m una de cealaltă. Luminile din borduri verde și roșu și lumina albă de pupa**

41) Ce indică semnalul alăturat ?



- a) Puncte periculoase de la malul stâng
 - b) **Puncte periculoase de la malul drept**
 - c) Puncte periculoase în șenal
- 42) Luminile din figura alăturată sunt văzute noaptea la :



- a) construcție plutitoare în staționare
- b) **Pupa navei autopropulsate la un convoi împins în marș**
- c) Pupa unui împingător ce navigă izolat

- 43) O navă care navigă cu vele folosind în același timp și motor, ziua în marș, trebuie să poarte:
- bulă neagră dispusă la cel puțin 3 m deasupra liniei de maximă încărcare astfel încât să fie vizibilă în toate părțile
 - Un con negru cu vârful în jos, amplasat cât mai sus posibil și într-un loc unde va fi cel mai vizibil**
 - Un con negru cu vârful în sus dispus la cel puțin 3 m deasupra liniei de maximă încărcare, astfel încât să fie vizibil în toate părțile
- 44) Semnalizarea prevăzută pentru noapte la nave trebuie să fie purtată, în plus, și ziua, în condiții de :
- Vizibilitate redusă : ceață, ninsoare etc**
 - Avarie la bordul navei
 - Răniți sau bolnavi la bord
- 45) Care este semnalizarea suplimentară a navelor de supraveghere fluvială ziua în marș în exercitarea atribuțiilor lor :
- Ca a unei nave izolate
 - Ziua arborează o flamură albă în centrul căreia se găsește un romb alb încadrat de un chenar albastru
 - Ziua arborează o flamură albă în centrul căreia se găsește un romb alb încadrat cu un chenar albastru și arată o lumină albastră intermitentă**
- 46) Emiterea de către o navă a unui semnal fonic lung pe vizibilitate bună are semnificația de :
- Navigație periculoasă
 - Atenție**
 - Semnal premergător intenției de a depăși
- 47) Care este culoarea, forma și care sunt caracteristicile unei geamanduri de bifurcație ?
- De forma sferică vopsită (piturată) în verde-roșu-verde-roșu, lumină de culoare albă intermitentă**
 - De forma sferică vopsită (piturată) în alb-negru-alb-negru, lumină de culoare albă intermitentă
 - De forma sferică vopsită (piturată) în roșu-negru-roșu-negru, lumină de culoare albă intermitentă
- 48) Care sunt caracteristicile luminii de coastă (far) de bifurcație ?
- Două panouri triunghiulare albe, unul deasupra celuilalt și opuse la vârf cel de deasupra mărginit cu bandă roșie cel de jos cu bandă verde, lumină albă intermitentă**
 - Suport de culoare albă, lumină galbenă fixă , un disc piturat negru-roșu-negru-roșu

c) Suport de culoare albă, lumină albă fixă, un disc picturat roșu-negru-roșu-negru

49) Ce semnificație are semnalul de mai jos ?



- a) Interzice staționarea în zona ambelor maluri
- b) Interzicere de a staționa (de a ancora sau de a se lega la mal)**
- c) Interzice staționarea în șenal

50) Ce semnificație are semnalul de mai jos ?




- a) Obligă navele de a ține partea șenalului care se găsește la tribord**
- b) Obligă navele de a ține partea șenalului care se găsește la babord
- c) Obligă navele să efectueze însrucuișări numai prin tribord

51) Ce semnificație are semnalul de mai jos ?



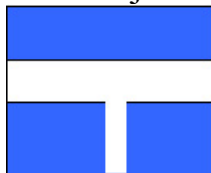
- a) Urmează trecerea pe sub pod
- b) Înălțimea liberă deasupra apei este limitată**
- c) Adâncimea apei este limitată

52) Ce semnificație are semnalul de mai jos ?



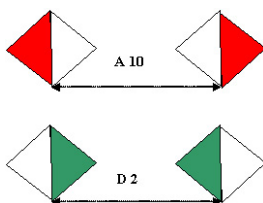
- a) Pericol, asigurați-vă
- b) Traversarea cu o linie electrică aeriană**
- c) Traversare hidrocentrală electrică

53) Ce semnificație are semnalul de mai jos ?



- a) **Calea urmată este considerată ca afluent a căii întâlnite**
- b) Căile întâlnite sunt considerate ca afluenți ai căii urmate
- c) Obligația de a nu se angaja în calea principală sau de a nu Traversa

54) Care dintre cele două semnale de mai jos crează obligații conducătorilor de nave ?



- a) Semnalul A 10
- b) Semnalul D 2
- c) **Nici unul**

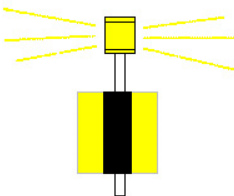
55) Atunci când o navă este în pericol și vrea să ceară ajutor, poate emite semnale sonore ?

- a) **Da**
- b) Nu
- c) Nu este prevăzut în Regulamentul de Navigație pe Dunăre

56) Școndrii pentru dreapta au culoarea :


- a) Verde
- b) Neagră
- c) **Roșie**

57) Ce indică semnalul alăturat ?



- a) Traversare de la malul stâng
- b) **Traversare de la malul drept**
- c) Jalon de aliniament dreapta

58) Ce semnificație are semnalul de mai jos :



- a) În zona respectivă se produc valuri
- b) **Interzicere de a provoca valuri**
- c) Interzice provocarea de valuri sau efecte de sugere

59) Ce semnificație are semnalul de mai jos ?



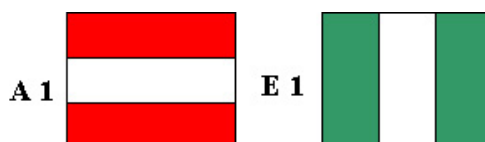
- a) Interzice navigația convoaielor remorcate sau împinse, cu mai mult de 12 unități
- b) **Obligă navele de a nu depăși viteza de 12 km/h în raport cu malurile**
- c) Viteza curentului este mai mare de 12 km/h

60) Ce semnificație are semnalul de mai jos ?



- a) Lățimea trecerii sau a șenalului este limitată
- b) **Șenalul este depărtat de malul drept (stâng). Mențineți-vă la 10 m distanță de semnal**
- c) Recomandarea de a se îndepărta de malul drept (stâng) în direcția arătată până la 10 m

61) Care dintre cele două semnale de mai jos reprezintă semnalul de interzicere ?



- a) **Semnalul A 1**
- b) Semnalul E 1
- c) Atât semnalul A 1 cât și semnalul E 1

62) Se pot folosi lumini și semnale ce nu sunt prevăzute în R.N.D ?

- a) Nu sunt permise alte semnale decât cele prevăzute în R.N.D

b) **Da, numai pentru comunicări între nave, între nave și uscat, cu condiția să nu se confunde cu luminile și semnalele prevăzute de R.N.D**

c) Da, numai în sectorul Dunării maritime

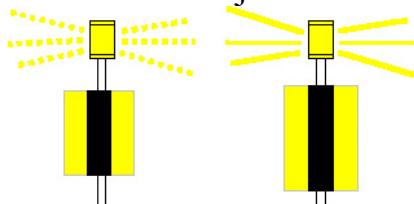
63) Pe întregul parcurs navigabil al fluviului, șenalul este balizat după sistemul :

a) **Lateral**

b) Cardinal

c) Lateral și cardinal

64) Ce semnificație au semnalele de mai jos ?



a) Far de intrare în bazin. Mal drept

b) **Jalon de alineament dreapta**

c) Nici o semnificație

65) Priviți semnalul de mai jos. Ce semnificație are ?

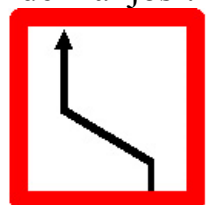


a) Interzice trecerea

b) **Interzice orice depășire**

c) Interzice depășirea numai între convoaie

66) Ce semnificație are semnalul de mai jos ?

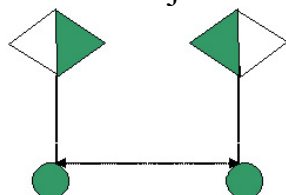


a) **Obligația de a se îndrepta spre partea șenalului situat la babord**

b) Obliga navele de a urma direcția indicată prin săgeată

c) Obliga navele de a se îndrepta spre partea șenalului care se găsește la tribord


67) Ce semnificație are semnalul de mai jos ?



a) **Recomandarea de a se ține, în spațiul indicat, pe Canalul Sulina**

- b) Obligația de a se ține în spațiu indicat
- c) **Recomandarea de a se ține în spațiul indicat**

68) Ce semnificație are semnalul de mai jos ?



- a) **Căile întâlnite sunt considerate ca afluenți ai căii urmate**
- b) Obligația de a nu se angaja în calea principală sau de a nu traversa
- c) Calea urmată este considerată ca afluent al căii întâlnite

69) Priviți cele două semnale de mai jos. Care este semnalul de obligație ?



E7



A7

- a) Semnalul E
- b) Semnalul A
- c) **Nici unul**

70) Atunci când o navă aflată în pericol vrea să ceară ajutor, ea poate să emită :

- a) “O serie de sunete de clopot”
- b) “O serie de cinci sunete lungi” la interval de un minut
- c) **“O serie de sunete de clopot” sau “sunete lungi” cu alte mijloace acustice repetate**

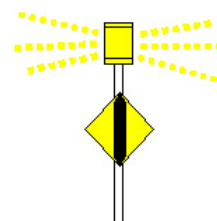
71) Nava care emite, “serie de sunete foarte scurte” ce semnalizează ?

- a) Este în imposibilitatea de manevră
- b) Este în pericol și cere ajutor
- c) **Este în pericol iminent de abordaj**

72) Școndri pentru stânga au culoarea :

- a) **Verde**
- b) Neagră
- c) Roșie

73) Ce semnificație are semnalul alăturat :



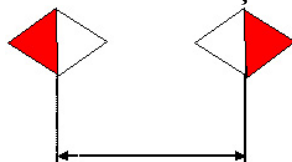
- a) **Traversare de la malul stâng**
- b) Traversarea de la malul drept
- c) Jalon de aliniament dreapta

74) Priviți semnalul de mai jos. Ce semnificație are ?




- a) **Interzice trecerea**
- b) Interzice trecerea prelungită
- c) Interzice orice deplasare

75) Priviți imaginea de mai jos. Ce semnificație are ?




- a) Limitează șenalul
- b) Interzice trecerea în spațiul indicat
- c) **Intertice trecerea în afara spațiului indicat**

76) Ce semnificație are semnalul de mai jos ?



- a) Obligația de a păstra o vigilență deosebită
- b) **Obligația de a emite un semnal fonic**
- c) Interzice emiterea semnalelor fonice

77) Ce semnificație are semnalul de mai jos ?



- a) Trecerea interzisă în sensul indicat
- b) **Trecerea recomandată în singurul sens indicat**
- c) Trecerea recomandată în ambele sensuri

78) Care dintre cele două semnale de mai jos este semnal de indicație :

A 5

E 5



- a) Semnalul A 5

b) **Semnalul E 5**

c) Ambele semnale

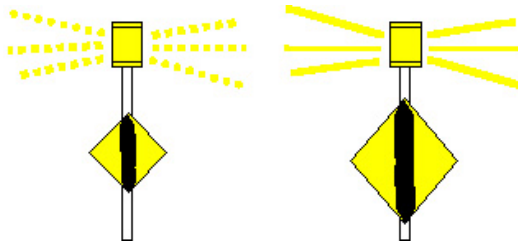
79) Care este forma, culoarea și care sunt caracteristicile unei geamanduri pentru stânga ?

a) De formă sferică piturată în negru-roșu-negru-roșu, lumina de culoare albă intermitentă

b) **De formă conică piturată în verde, lumina de culoare verde intermitentă**

c) De formă cilindrică piturată în roșu lumina de culoare roșie intermitentă

80) Ce semnificație au semnalele din desenul alăturat ?

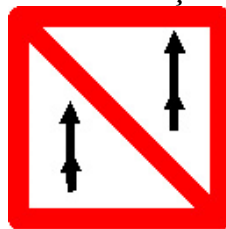


a) Far de intrare în bazin mal stâng

b) **Jaloane aliniament stâng**

c) Nici o semnificație

81) Priviți semnalul alăturat . Ce semnificație are ?



a) Interzice trecerea

b) Interzice orice depășite

c) **Interzice depășirea numai dintre convoaie**

82) Ce semnificație are semnalul de mai jos ?



a) Obligă navele de a se îndrepta spre partea șenalului care se găsește la babord

b) Obligă navele de a urma direcția indicată prin săgeată


c) **Obligă navele de a se îndrepta spre partea șenalului care se găsește la tribord**

83) Care dintre obligațiile de mai jos, vă revin când sunteți de cart la comanda unei nave în marș și întâlniți semnalul de mai jos ?



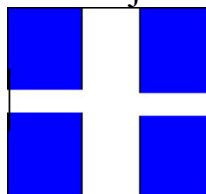
- a) Înainte de a vă angaja în calea principală să emiteți semnalele sonore prevăzute de R.N.D.
- b) **Să nu vă angajați pe calea principală sau să nu traversați decât dacă manevra nu obligă, alte nave care navigă pe această cale să-și modifice drumul sau viteza**
- c) Nu aveți nici o obligație, întrucât semnalul indică prioritate de trecere pentru dumneavoastră

84) Ce semnificație generală are semnalul de mai jos ?



- a) **Permitere de trecere**
- b) Recomandare de trecere
- c) Interzicere de trecere

85) Ce semnificație are semnalul de mai jos ?



- a) **Căile întâlnite sunt considerate ca afluenți ai căii urmate**
- b) Obligația de a nu se angaja în calea principală sau de a nu traversa
- c) Calea urmată e considerată ca afluent a căii întâlnite

86) Care dintre cele două semnale alăturate este semnalul de indicație ?



A8




E8

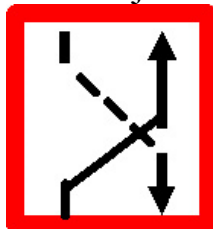
- a) Semnalul A 8
- b) **Semnalul E 8**
- c) Nici unul

- 87) Cum semnalizează noaptea navele care sunt în pericol și cer ajutor ?
- Agită circular o lumină**
 - Aprind o lumină roșie intermitentă
 - Agită o lumină indiferent de culoare
- 88) Geamandurile de culoare verde cu lumină verde intermitentă balizează :
- Partea stângă a șenalului și pericolele de la malul stâng**
 - Partea dreapta a șenalului și pericolele de la malul drept
 - Pericolele de navigație situate în șenal
- 89) Lumina de coastă (far) de pe malul stâng, are următoarele caracteristici :
- Suport de culoare albă, lumină de culoare verde intermitentă și un panou de formă rombică, piturat jumătate verde-parte de sus și jumătate alb-parte de jos**
 - Suport de culoare albă, lumină de culoare verde intermitentă și un panou dreptunghiular, piturat la partea superioară și inferioară cu câte o dungă albă, iar între cele două dungă albe piturat cu roșu
 - Suport de culoare albă, cu lumină de culoare roșie intermitentă și un panou de formă rombică, piturat jumătate negru la partea superioară și jumătate alb la partea inferioară

- 90) Ce indică semnalul alăturat ?




- Puncte periculoase de la malul stâng**
 - Puncte periculoase de la malul drept
 - Puncte periculoase în șenal
- 91) Ce semnificație are semnalul de mai jos ?



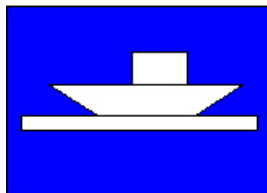
- Interzicerea de a încrucișa șenalul la tribord
- Interzicerea oricărei încrucișări
- Obligația de a încrucișa șenalul la tribord**

92) Ce semnificație are semnalul alăturat ?



- a) Obligația de a reduce viteza
- b) Sunt impuse restricții de navigație; informați-vă**
- c) Obligația de a se opri în condițiile prevăzute în R.N.D

93) Ce semnificație are semnalul alăturat ?



- a) Bac care nu navigă liber**
- b) Bac care navigă liber
- c) Bac

94) Ce semnificație are semnalul de mai jos ?



- a) Loc de alimentare cu apă potabilă**
- b) Apă potabilă
- c) Punct public de alimentare cu apă potabilă

95) Geamandurile luminoase și neluminoase, școndri și jaloanele pentru dreapta sau pentru stânga, în principiu ce marchează ?

- a) Limita șenalului și pericolele de la malul respectiv**
- b) Pericolele de navigație situate în șenal
- c) Pericolele de la malul respectiv

96) Lumina de coastă (far) de pe malul drept și lumina de coastă (far) de pe malul stâng în principiu indică :

- a) Pericolele din apropierea malurilor și în același timp apropierea șenalului de maluri
- b) Direcția aproximativă a șenalului în raport cu malul și servește în același timp ca punct de reper**
- c) Direcția șenalului în raport cu pericolele de la maluri

97) Ce semnificație are semnalul alăturat ?




- a) În zona respectivă sunt anafoare
- b) **Interzicerea de a întoarce**
- c) Indică locuri periculoase pentru întoarcerea navelor

98) Ce semnificație are semnalul de mai jos ?



- a) Obligă navele să emită un sunet scurt
- b) Interzice emiterea de semnale sonore
- c) **Obligă navele de a opri în condițiile prevăzute în Regulamentul de Navigație pe Dunăre**

99) Ce semnificație are semnalul de mai jos ?



- a) **Post telefonic**
- b) Post telefonic numai în porturi
- c) Telefon public

100) Navele care sunt în pericol și cer ajutor, ce semnal vizual arată ziua ?

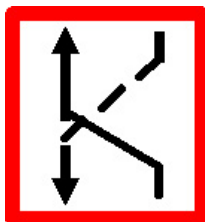
- a) Agită un pavilion alb
- b) **Agită circular un pavilion sau orice alt obiect asemănător**
- c) Agită circular un balon roșu

101) Ce semnificație au geamandurile de culoare roșie cu lumina roșie intermitentă ?

- a) Marchează limitele șenalului și direcția sa balizând partea stângă a șenalului și pericolele de la malul stâng
- b) **Marchează limitele șenalului și direcția sa balizând partea dreaptă a șenalului și pericolele de la malul drept**
- c) Balizează pericolele de navigație situate în șenal

- 102) Lumina de coastă (far) de pe malul drept are următoarele caracteristici:
- a) Suport de culoare albă, lumină de culoare verde intermitentă și un panou pătrat roșu, mărginit de două benzi orizontale albe
 - b) Suport de culoare albă, lumină de culoare roșie intermitentă și un panou pătrat roșu, mărginit de două benzi orizontale albe**
 - c) Suport de culoare albă, lumină de culoare roșie intermitentă și un panou pătrat verde mărginit de două benzi orizontale albe

- 103) Ce semnificație are semnalul alăturat ?



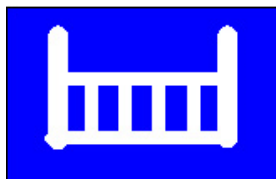
- a) Arată conducătorilor de nave că încrucișarea este interzisă
- b) Obligă navele de a încrucișa șenalul la babord**
- c) Interzice de a încrucișa șenalul la babord

- 104) Ce semnificație are semnalul alăturat ?




- a) Lățimea pasei de trecere este limitată
- b) Lățimea șenalului este limitată
- c) Lățimea pasei de trecere sau a șenalului este limitată**

- 105) Ce semnificație are semnalul alăturat ?



- a) Garduri pescărești
- b) Baraj**
- c) Rețea de înaltă tensiune

- 106) Ce semnificație are semnalul de mai jos ?



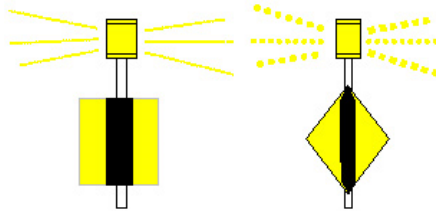
- a) Sfârșitul unei obligații valabile pentru un singur fel de navigație
- b) Sfârșitul unei restricții sau obligații

c) **Sfârșitul unei interziceri sau a unei obligații valabilă pentru un singur sens de navigație sau sfârșitul unei restricții**

107) Ce semnificație au geamandurile luminoase și neluminoase, școndrii și jaloanele de joncțiune și de bifurcație ?


- a) Semnalizează numai joncțiunea și bifurcația șenalului
- b) Balizează numai pericolele de navigație situate pe șenal
- c) **Semnalizează joncțiunea și bifurcația șenalului și în afară de aceasta balizează pericolele de navigație din șenal**

108) În principiu semnalele de mai jos indică :




- a) **Începutul și sfârșitul traversării șenalului de la un mal la altul**
- b) Axa șenalului în raport cu malurile
- c) Direcția pericolelor de navigație în raport cu malurile

109) Două panouri suprapuse, de forma și culoarea din figura de mai jos, indică ?




- a) Trecerea interzisă
- b) **interzicere prelungită de trecere**
- c) Încrucișarea și depășirea sunt interzise

110) Ce semnificație are semnalul din imaginea alăturată ?




- a) Interzice navigația în direcția indicată de săgeată
- b) **Obligă pe conducătorii de nave de a urma direcția indicată prin săgeată**
- c) Indică direcția unde se găsesc locuri sigure pentru staționarea navelor

111) Ce semnificație are semnalul de mai jos ?




- a) Obligația de a emite un semnal fonic
- b) Interzice emiterea semnalelor fonice
- c) **Obligația de a păstra o vigilență deosebită**

112) Ce semnificație are semnalul din imaginea alăturată ?



- a) Trecerea interzisă în sensul indicat
- b) **Trecerea recomandată în singurul sens indicat**
- c) Trecerea recomandată în ambele sensuri

113) Ce semnificație are semnalul din imaginea alăturată ?



- a) Interzicerea de a efectua întoarcerea
- b) Obligația de a face întoarcerea
- c) **Loc de întoarcere**

114) Care din cele două semnale de mai jos crează obligații pentru conducătorii de nave ?



- a) Semnalul A 6
- b) Semnalul B 6
- c) **Nici unul**

115) Care este forma, culoarea și care sunt caracteristicile luminii unei geamanduri pentru dreapta ?

- a) De formă sferică, piturată în negru-roșu-negru-roșu, lumina de culoare albă intermitentă

- b) De formă conică, picturată în negru, lumina de culoare verde intermitentă
- c) **De formă cilindrică, picturată în roșu, lumina de culoare roșie intermitentă**

116) Jaloanele de aliniament indică :

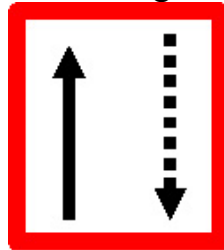
- a) **Axa traversării**
- b) Pericolele de navigație de la malul drept sau stâng
- c) Începutul sau sfârșitul traversării șenalului

117) Ce semnificație are semnalul din imaginea alăturată ?



- a) Interzicerea încrucișării
- b) Interzicerea depășirii
- c) **Interzicerea de înâlnire și depășire**

118) Ce semnificație are semnalul din imaginea alăturată ?



- a) Interzicerea oricărei încrucișări și depășiri
- b) **Obligă navele de a ține partea șenalului care se găsește la babord**
- c) Obligă navele de a efectua încrucișarea în zona unde este amplasat semnalul

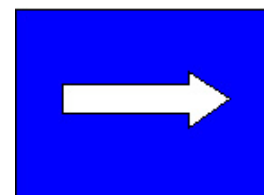
119) Ce semnificație are semnalul din imaginea alăturată ?



- a) **Adâncimea apei este limitată**
- b) Albia prezintă mameloane
- c) Asigurați-vă ! Sunt depuneri masive

120) Ce semnificație are semnalul din imaginea ?

- a) Obligația de a se îndrepta în sensul săgeții
- b) **Recomandarea de a se îndrepta în sensul săgeții**
- c) Indică direcția unde se recomandă staționarea




121) Ce semnificație are semnalul din imaginea alăturată ?

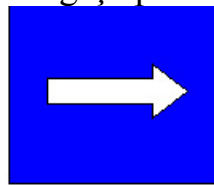


- a) **Calea urmată este considerată ca afluent al căii întâlnite**
- b) Căile întâlnite sunt considerate ca afluenți ai căii urmate
- c) Obligația de a nu se angaja în calea principală sau de a nu traversa

122) Care dintre cele două semnale crează obligații pentru conducătorii de nave ?



B1



D3

- a) **Semnalul B 1**
- b) Semnalul D 3
- c) Ambele semnale

123) Ce semnificație are semnalul din imaginea alăturată ?



- a) Interzicerea navigației navelor cu două elice
- b) **Interzicerea navigației navelor autopropulsate**
- c) Interzicerea navigației navelor nepropulsate

124) Ce semnificație are semnalul din imaginea alăturată ?



- a) Interzicerea sporturilor nautice
- b) Interzicerea de staționare a navelor de sport și agrement
- c) **Interzicerea navigației pentru toate ambarcațiunile de sport și agrement**

125) Ce semnificație are semnalul de mai jos ?



- a) **Interzicerea practicării schiului nautic**

- b) Interzicerea practicării sporturilor nautice
- c) Interzicerea oricăror nave de a tracta persoane care practică schiul nautic

126) Ce semnificație are semnalul din imaginea alăturată ?



- a) **Interzicerea navigației navelor cu vele**
- b) Interzicerea navigației navelor cu vele cu un tonaj mai mare de 50 de tone
- c) Interzicerea staționării navelor cu vele

127) Ce semnificație are semnalul de mai jos ?



- a) Interzicerea de a lăsa ambarcațiuni cu rame la apă
- b) Interzicerea staționării ambarcaunilor cu rame pe partea șenalului pe care este amplasat semnalul
- c) **Interzicerea navigației navelor care nu sunt autopropulsate și nici cu vele**

128) Ce semnificație are semnalul din imaginea alăturată ?



- a) Permitearea de staționare a navelor autopropulsate
- b) Permitearea de a face probe la paratul plutitor
- c) **Permitearea navigației pentru navele autopropulsate**

129) Ce semnificație are semnalul de mai jos ?



- a) **Permitearea navigației pentru ambarcațiuni de sport sau agrement**
- b) Permitearea practicării sporturilor nautice
- c) Zona indicată staționării navelor de sport și agrement

130) Ce semnificație are semnalul de mai jos ?



- a) Obligația de a practica schiul nautic
- b) Permitea de a practica schiul nautic**
- c) Permitea navigației navelor ce tractează persoane care practică schiul nautic

131) Ce semnificație are semnalul din imaginea alăturată ?




- a) Permitea staționării navelor cu vele
- b) Permitea navigației pentru navele cu vele**
- c) Permitea practicării sporturilor nautice

132) Ce semnificație are semnalul din imaginea alăturată ?



- a) Recomandarea de a lăsa bărci la apă
- b) Permitea navigației pentru navele care nu sunt nici autopropulsate nici cu vele**
- c) Permitea de staționare a navelor cu rame pe partea unde este amplasat semnalul

133) Ce semnificație are semnalul din imaginea alăturată ?



- a) Emiterea unui sunet lung
- b) Vigilență deosebită
- c) Oprirea la 1000 m**

134) Ce semnificație are semnalul din imaginea alăturată ?



- a) **Interzicerea staționării (pe o distanță de 1000 m)**
- b) Interzicerea staționării (pe o distanță mai mare de 1000 m)
- c) Ancorarea interzisă

135) Ce semnificație are semnalul din imaginea alăturată ?



- a) Punct de control trecere frontieră
- b) **Opriiți pentru vamă !**
- c) Punct vamal

136) Ce semnificație are semnalul de mai jos ?



- a) **Interzicerea navigației pe scândura cu vele**
- b) Interzisă practicarea sporturilor nautice
- c) Interzisă practicarea surfingului

137) Ce semnificație are semnalul de mai jos ?



- a) Interzicerea de navigație a șalupelor
- b) **Terminarea zonei permise pentru navigația cu viteza mare a ambarcațiunilor mici de sport sau de agrement**
- c) Interzicerea de întâlnire a șalupelor

138) Ce semnificație are semnalul de mai jos ?

- a) **Interzicerea de a lăsa la apă sau de a ridica pe mal ambarcațiuni**
- b) Interzicerea de a naviga cu ambarcațiuni mici
- c) Interzicerea de a ridica pe mal ambarcațiuni

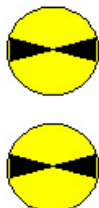


139) Ce semnificație are semnalul din imaginea alăturată ?



- a) **Obligația de a intra în legătură radiotelefonică**
- b) Interzicerea de a intra în legătură radiotelefonică
- c) Recomandarea de a intra în legătură radiotelefonică

140) Ce semnificație au semnalele luminoase din imaginea de mai jos ?



- a) **Obligația navelor care navigă pe calea principală să schimbe, în caz de nevoie, drumul sau viteza lor pentru a ceda drumul navelor care ies din port sau din calea afluentă**
- b) Interzicerea navelor care navigă pe calea principală să schimbe drumul sau viteza lor pentru a ceda drumul navelor care ies din port sau din calea afluentă
- c) Obligația navelor care navigă pe calea afluentă să schimbe drumul în caz de nevoie

141) Ce semnificație are semnalul de mai jos ?



- a) **Interzice a se lega la mal pe partea căii unde este amplasat**
- b) Interzice legarea navelor de semnalele căii navigabile
- c) Interzice legarea în zona ambelor maluri


142) Ambarcațiunile mici care navigă izolat și convoaiele remorcate sau formațiile în cuplu compuse numai din ambarcațiuni mici, sunt obligate :

- a) **Să nu jeneze mișcările și manevrele celorlalte nave**
- b) Să traverseze calea navigabilă numai în porturi
- c) Să navigheze numai ziua

143) Toate navele trebuie să treacă în timpul cel mai scurt posibil trecerile înguste ?

- a) Nu
- b) Nu este prevăzut în R.N.D.
- c) **Da**

144) Ce semnificație are semnalul de mai jos ?



- a) **Permiterea de a staționa în ancoră sau legat la mal pe partea unde este amplasat semnalul**
- b) Permiterea sau recomandarea de a acosta la mal pe partea căii unde este amplasat semnalul
- c) Obligația de a staționa pe partea căii unde este amplasat semnalul

145) Cine cedează drumul în cazul întâlnirii dintre două ambarcațiuni mici ? (Din care una este autopropulsată și cealaltă nepropulsată)

- a) **Ambarcațiunea autopropulsată**
- b) Ambarcațiunea nepropulsată
- c) Ambele, după ce în prealabil sau înțeles prin semnale

146) Ce semnificație au semnalele de mai jos ?



- a) Interzice ancorarea
- b) **Interzice ancorarea și de a lăsa să se târască ancore, parâme și lanțuri pe partea căii unde este amplasat**
- c) Interzice ancorarea și de a se lăsa să se târască ancore în zona ambelor maluri

147) Amonte pe calea navigabilă este sensul :

- a) **Spre izvor**
- b) Spre revărsare
- c) De la un mal la celălalt

148) Este interzis a se angaja cu o navă în intervalele dintre unitățile unui convoi remorcat ?

- a) **Da**
- b) Nu
- c) Nu este prevăzut în Regulament

149) Unde este interzis de a se instala plase sau alte unelte de pescuit ?

- a) În canale navigabile
- b) În locurile de ancoraj
- c) **În șenalul navigabil**

150) Când nu se aplică interdicția de a se lăsa să se târască ancore, parâme sau lanțuri ?

- a) În cazul micilor mișcări la locurile de staționare sau în cazul manevrelor
- b) Întotdeauna, în sectoarele unde este permisă ancorarea**
- c) Când șenalul are o lățime absolut suficientă, iar adâncimile trec de 6 m

151) Ce semnificație are semnalul din imaginea alăturată ?




- a) Interzicerea de a depăși viteza indicată în raport cu malurile
- b) Interzicerea staționării pe lățimea indicată în metri (măsurată de la semnal)**
- c) Interzicerea staționării pe lungimea indicată în metri

152) Ce semnificație are semnalul de mai jos ?




- a) Permitea de a staționa pe o lățime a suprafeței apei, măsurată de la semnal și indicată în metri pe acesta**
- b) Indicația de a păstra distanța față de malul unde este amplasat semnalul
- c) Lățimea minimă a locurilor de staționare în metri

153) Ce semnificație are semnalul din imaginea alăturată ?



- a) Numărul maxim de nave permise a staționa bord la bord**
- b) Lungimea maximă a locurilor de staționare stabilite în număr de dane
- c) Recomandarea de a naviga cu numărul de unități în dana indicată


154) Ce semnificație are semnalul din imaginea alăturată ?



- a) Autorizația de a staționa a navelor cu echipaj cu excepția navelor care trebuie să poarte ziua conul albastru sau roșu

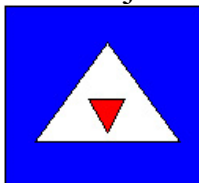
- b) Autorizația de staționare a navelor cu echipaj cu excepția navelor care trebuie să poarte ziua conul albastru
- c) **Zona de staționare rezervată navelor fără echipaj cu excepția navelor care trebuie să poarte ziua conul albastru sau roșu**

155) Ce semnificație are semnalul de mai jos ?



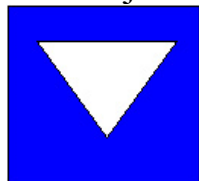
- a) Autorizația de staționare a navelor cu echipaj care trebuie să poarte ziua conul albastru
- b) Autorizația de staționare a navelor cu echipaj cu excepția navelor care trebuie să poarte ziua conul albastru
- c) **Zona de staționare rezervată navelor fără echipaj care trebuie să poarte ziua conul albastru**

156) Ce semnificație are semnalul de mai jos ?




- a) Autorizația de staționare a navelor cu echipaj care trebuie să poarte ziua conul roșu
- b) **Zona de staționare rezervată navelor fără echipaj care trebuie să poarte ziua conul roșu**
- c) Autorizația de staționare a navelor fără echipaj care trebuie să poarte ziua conul roșu

157) Ce semnificație are semnalul de mai jos ?




- a) Autorizația de staționare a navelor fără echipaj cu excepția navelor care trebuie să poarte ziua conul albastru sau roșu
- b) **Zona de staționare rezervată navelor cu echipaj cu excepția navelor care trebuie să poarte ziua conul albastru sau roșu**
- c) Autorizația de staționare a navelor cu echipaj care trebuie să poarte ziua conul albastru

158) Ce semnificație are semnalul de mai jos ?




- a) Autorizația de staționare a navelor, fără echipaj care trebuie să poarte ziua conul albastru
- b) **Zona de staționare rezervată navelor cu echipaj care trebuie să poarte ziua conul albastru**
- c) Autorizația de staționare a navelor cu echipaj care trebuie să poarte ziua conul albastru

159) Ce semnificație are semnalul de mai jos ?




- a) Autorizația de staționare a navelor fără echipaj care trebuie să poarte ziua conul roșu
- b) Autorizația de staționare a navelor cu echipaj cu excepția navelor care trebuie să poarte ziua conul roșu
- c) **Zona de staționare rezervată navelor cu echipaj care trebuie să poarte ziua conul roșu**

160) Ce semnificație are semnalul de mai jos ?



- a) **Zona de staționare rezervată navelor cu și fără echipaj cu excepția navelor care trebuie să poarte ziua conul albastru sau roșu**
- b) Autorizația de staționare a navelor cu echipaj sau fără echipaj
- c) Autorizația de staționare a navelor cu echipaj și fără echipaj care trebuie să poarte ziua conul albastru sau roșu


161) Ce semnificație are semnalul de mai jos ?



- a) **Zona de staționare rezervată navelor cu și fără echipaj care trebuie să poarte ziua conul albastru**

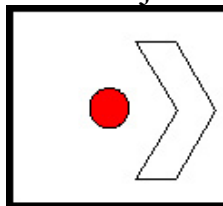
- b) Autorizația de staționare a navelor cu echipaj și fără echipaj, cu excepția navelor care trebuie să poarte ziua conul albastru
- c) Autorizația de staționare a navelor cu echipaj și fără echipaj care transportă materiale explozibile

162) Ce semnificație are semnalul de mai jos ?



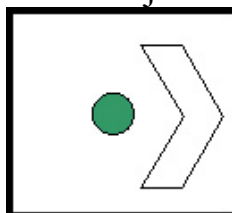
- a) Autorizația de staționare a navelor cu echipaj și fără echipaj cu excepția navelor care trebuie să poarte ziua conul roșu
- b) Zona de staționare rezervată navelor cu echipaj și fără echipaj care trebuie să poarte ziua conul roșu**
- c) Autorizația de staționare a navelor cu echipaj și fără echipaj care transportă materiale inflamabile

163) Ce semnificație are semnalul de mai jos ?



- a) Interzicerea de a intra în bazin care este situat în direcția săgeții**
- b) Interzicerea prelungită de intrare în bazin. Navele care doresc să intre trebuie să se informeze
- c) Interzicerea temporară de ieșire din bazin. Navele care doresc să iasă din bazin trebuie să aștepte într-un loc potrivit în așa fel încât să nu jeneze mișcarea navelor care intră

164) Ce semnificație are semnalul de mai jos ?



- a) Permite de intrare în bazin care este situat în direcția săgeții**
- b) Permite de ieșire din bazin
- c) Permite de navelor care doresc să iasă din bazin de a înainta până în zona de ieșire din bazin

165) Ce semnificație are semnalul de mai jos ?

- a) Obligația de a intra în legătura radiotelefonică pe canalul indicat, pe panou**



- b) Obligația de a lua legătura pe lungimea de undă indicată
- c) Interzicerea de a folosi canalul indicat

166) Ce semnificație are semnalul de mai jos ?



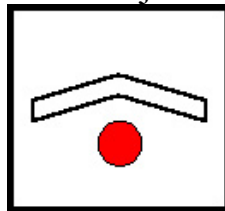
- a) **Permiterea de a lăsa la apă sau de a ridica pe mal ambarcațiuni**
- b) Interzicerea de a lăsa la apă ambarcațiuni
- c) Interzicerea de a lăsa la apă sau de a ridica pe mal ambarcațiuni cu lungimea mai mare de 15 m

167) Ce semnificație are semnalul de mai jos ?



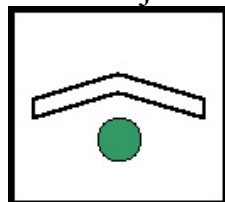
- a) **Permiterea navigației cu scândura cu velă**
- b) Interzicerea schiului nautic
- c) Obligația de a folosi scândura cu velă

168) Ce semnificație are semnalul de mai jos ?



- a) **Interzicerea ieșirii din bazin, care este situat în direcția săgeții**
- b) Interzicerea prelungită de ieșire din bazin. Navele care doresc să iasă trebuie să se informeze
- c) Interzicerea temporară de ieșire din bazin. Navele care doresc să iasă din bazin trebuie să aștepte în locurile desemnate în acest scop

169) Ce semnificație are semnalul de mai jos ?



- a) **Permiterea de ieșire din bazin, care este situat în direcția săgeții**
- b) Permiterea intrării din bazin
- c) Permiterea navelor care ies din bazin să înainteze până la acest semnal

170) Ce semnificație are semnalul de mai jos ?



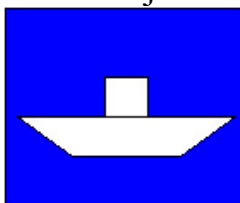
- a) **Zona permisă pentru navigația cu viteză mare a ambarcațiunilor mici de sport sau de agrement**
- b) Zona interzisă pentru navigația cu viteză mare a ambarcațiunilor mici de sport și agrement
- c) Zona permisă pentru navigația cu viteză mare tuturor navelor

171) Ce semnificație are semnalul de mai jos ?



- a) **Zona de staționare rezervată pentru încărcarea și descărcarea vehiculelor (durata maximă a staționării permise poate fi indicată pe o tăbliță indicată sub panou)**
- b) Zona rezervată încărcării vehiculelor
- c) Zona rezervată descărcării vehiculelor

172) Ce semnificație are semnalul de mai jos ?



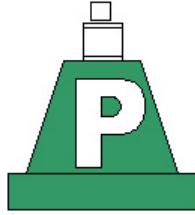
- a) **Bac care navigă liber**
- b) Bac care navigă pe cablu
- c) Doc pentru staționarea bacurilor care nu navigă liber

173) Geamnadura din figura de mai jos marchază :



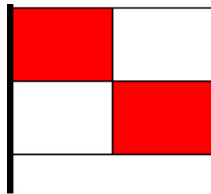
- a) Limitele șenalului și direcția sa; ea balizează partea dreaptă a șenalului, și pericolele de la malul drept
- b) Joncțiunea și bifurcația șenalului; ea balizează pericolele de navigație din șenal
- c) **Locul de staționare în raport cu limita dreaptă a șenalului**

174) Geamnadura din figura de jos marchează :



- a) Limitele șenalului și direcția sa; ea balizează partea stângă a șenalului și pericolele de la malul stâng
- b) Axa șenalului
- c) **Locurile de staționare în raport cu limita stânga a șenalului**

175) Ce semnificație are semnalul alăturat arborat la stațiile semaforice de pe Dunărea Maritimă ?



- a) Fiți atenți la semnalele mele
- b) **Vizibilitatea redusă pe canalul Sulina**
- c) Vreau să comunic cu dumneavoastră

176) Ce semnificație are flamura de mai jos arborată la catargul stației semaforice Ceatal Ismail ?



- a) Interzicerea temporară a navigației pe brațul Chilia
- b) Vizibilitate redusă pe brațul Tulcea și canalul Sulina
- c) **Curent puternic pe canalul Sulina**